

Prénom : _____

Date : _____

Travail significatif de mathématiques

Les nombres jusqu'à 20

Objectif

MSN 12 — Poser et résoudre des problèmes pour construire et structurer des représentations des nombres naturels...

Total des points

total / 25
-------	------------

Note

NA 0 – 6 points	PA 7 – 14 points	A 15 – 18 points	AA 19 – 22 points	LA 23 – 25 points

Commentaires éventuels :

Signature : _____

Prénom : _____

1. Compte les objets :

/4



	<input type="text"/>		<input type="text"/>		<input type="text"/>		<input type="text"/>
	<input type="text"/>		<input type="text"/>		<input type="text"/>		<input type="text"/>

2. Complète la bande numérique :

/3

		7	8				
--	--	----------	----------	--	--	--	--

3. Dans chaque paire, colorie le plus grand nombre :

/3

5	15
----------	-----------

3	1
----------	----------

12	14
-----------	-----------

13	10
-----------	-----------

6	9
----------	----------

18	20
-----------	-----------


4. Écris les nombres que la maîtresse te dicte :


/4





5. Compte les objets et entoure :

/4

	10
	9
	11

	6
	8
	9

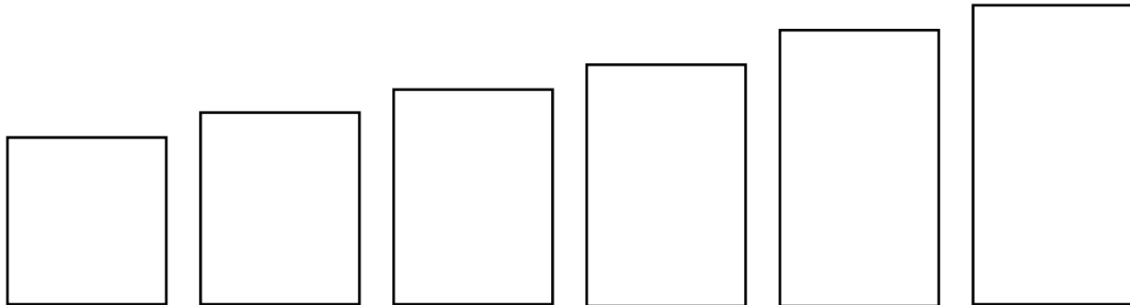
	19
	20
	18

	9
	10
	11

6. Range les nombres du plus petit au plus grand :

/3

18 - 6 - 10 - 17 - 13 - 20



7. Ecris le nombre qui vient juste avant et juste après :

/4

