
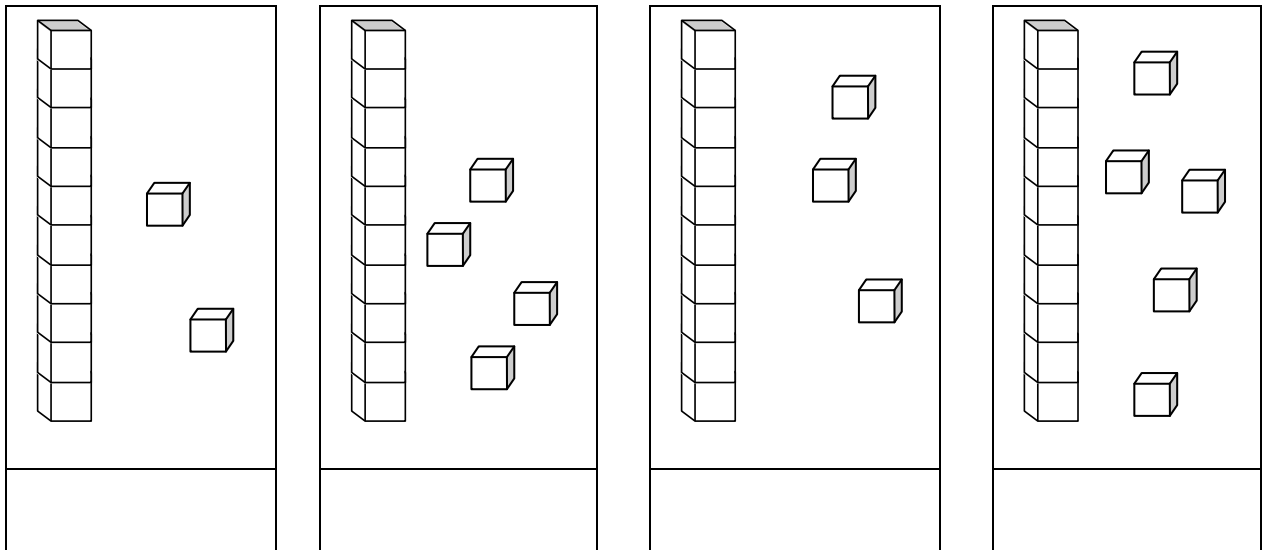


1. Entoure en rouge les nombres pairs et en bleu les nombres impairs.



/ 5.5 pts

2. Ecris le nombres qui correspond au dessin.



/ 4 pts

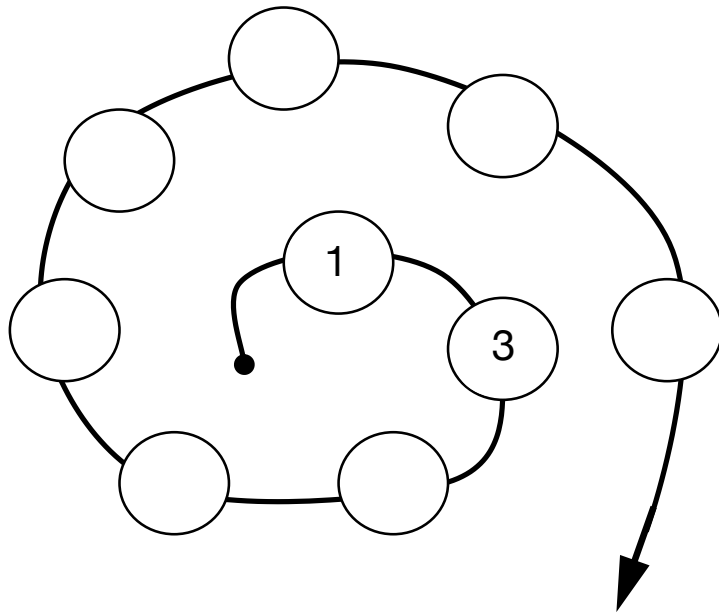
3. Classe les nombres dans l'ordre croissant.

19 - 5 - 12 - 8 - 18 - 3

< < < < <

/ 3 pts

4. Complète en comptant de 2 en 2.



/ 3.5 pts

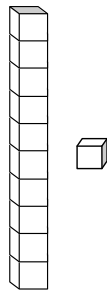
5. Classe les nombres dans l'ordre décroissant.

7 - 17 - 9 - 4 - 14 - 10

> > > > >

/ 3 pts

6. Complète avec des dessins.



onze

dix-neuf

dix-sept

seize

/ 4 pts

7. Colorie.

La **13**^{ème} case.

--	--	--	--	--	--	--	--	--	--	--	--	--	--	--	--	--	--	--	--

La **17**^{ème} case.

--	--	--	--	--	--	--	--	--	--	--	--	--	--	--	--	--	--	--	--

/ 2 pts

8. Compte de 2 en 2.

0	-	2	-		-		-		-		-		-		-	
---	---	---	---	--	---	--	---	--	---	--	---	--	---	--	---	--

/ 3.5 pts

9. Ecris le nombre qui correspond.

☆ ☆ ☆ ☆ ☆ ☆ ☆ ☆ ☆	⇒	<input type="text"/>
-------------------	---	----------------------

☆ ☆ ☆ ☆ ☆ ☆ ☆ ☆ ☆ ☆ ☆ ☆ ☆ ☆ ☆ ☆ ☆	⇒	<input type="text"/>
-----------------------------------	---	----------------------

☆ ☆ ☆ ☆ ☆ ☆ ☆ ☆ ☆ ☆ ☆ ☆ ☆ ☆	⇒	<input type="text"/>
-----------------------------	---	----------------------

☆ ☆ ☆ ☆ ☆ ☆	⇒	<input type="text"/>
-------------	---	----------------------

☆ ☆	⇒	<input type="text"/>
---	---	----------------------

/ 2.5 pts

BONUS : Entoure en rouge les nombres pairs et en bleu les nombres impairs.

/ 1 pts

date : _____

prénom : _____

TS math. Les nombres de 0 à 20

MSN 12 — Poser et résoudre des problèmes pour construire et structurer des représentations des nombres naturels...

- ...en associant un nombre à une quantité d'objets et inversement
- ...en utilisant les nombres et les chiffres pour organiser des situations de vie
- ...en passant de l'énonciation orale du nombre à son écriture chiffrée et inversement
- ...en organisant les nombres naturels à travers l'addition
- ...en ordonnant des nombres naturels

Nombre de points : /31

LA	AA	A	PA	NA
31 - 28 points	27.5 - 24.5	24 - 20.5	20 - 10	9.5 - 1

signature : _____

date : _____

prénom : _____

TS math. Les nombres de 0 à 20

MSN 12 — Poser et résoudre des problèmes pour construire et structurer des représentations des nombres naturels...

- ...en associant un nombre à une quantité d'objets et inversement
- ...en utilisant les nombres et les chiffres pour organiser des situations de vie
- ...en passant de l'énonciation orale du nombre à son écriture chiffrée et inversement
- ...en organisant les nombres naturels à travers l'addition
- ...en ordonnant des nombres naturels

Nombre de points : /31

LA	AA	A	PA	NA
31 - 28 points	27.5 - 24.5	24 - 20.5	20 - 10	9.5 - 1

signature : _____

