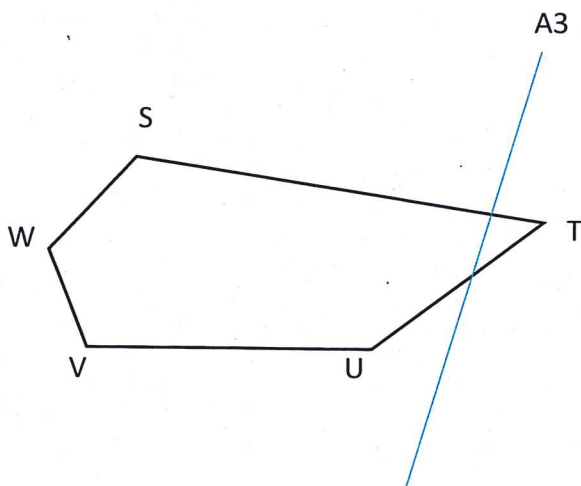
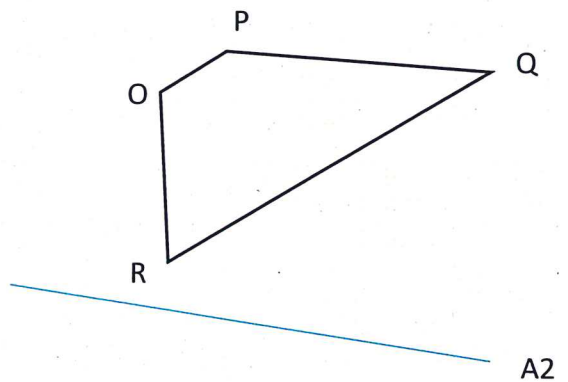
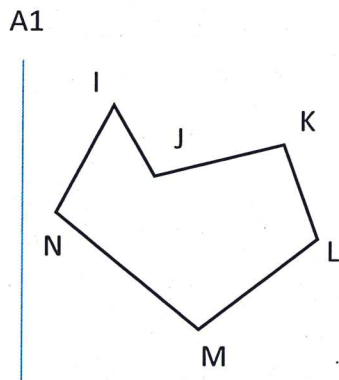
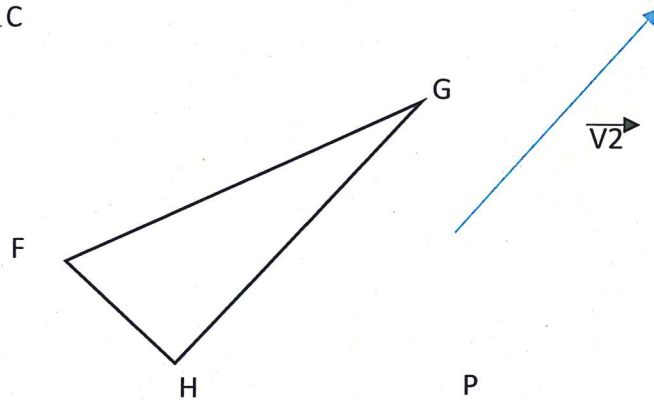
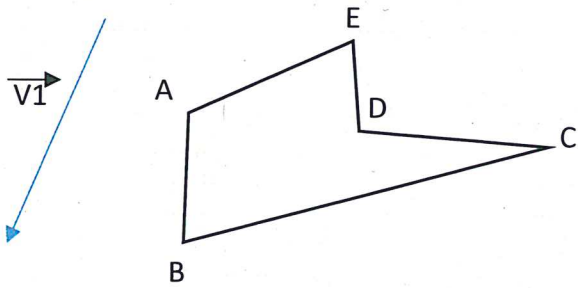


Translations et symétries

Construction sur feuille blanche

Construis les figures demandées ci-dessous.

- L'image de la figure ABCDE par une translation de vecteur $\vec{V1}$.
- L'image de la figure FGH par une translation de vecteur $\vec{V2}$.
- L'image de la figure IJKLMN par symétrie de l'axe A1.
- L'image de la figure OPQR par symétrie de l'axe A2.
- L'image de la figure STUVW par symétrie de l'axe A3.



Translations et symétries

Construction sur feuille blanche

Construis les figures demandées ci-dessous.

- L'image de la figure ABCDE par une translation de vecteur $\vec{V1}$.
- L'image de la figure FGH par une translation de vecteur $\vec{V2}$.
- L'image de la figure IJKLMN par symétrie de l'axe A1.
- L'image de la figure OPQR par symétrie de l'axe A2.
- L'image de la figure STUVW par symétrie de l'axe A3.

