

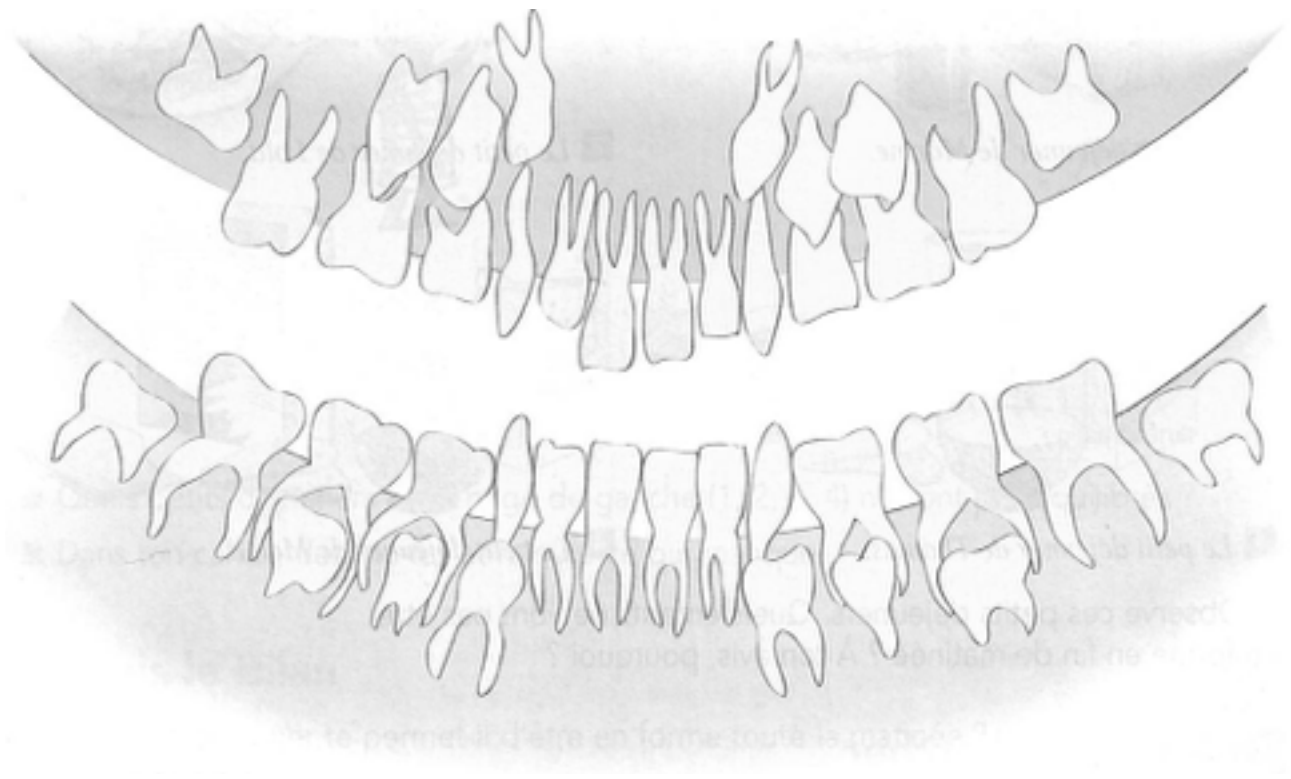


Mes dents

1. Observe attentivement cette image et essaie de répondre aux questions suivantes :

Situe la mâchoire du haut, la mâchoire du bas et l'emplacement de la langue.

Indique où se trouvent les dents de lait, les dents définitives et les futures dents.

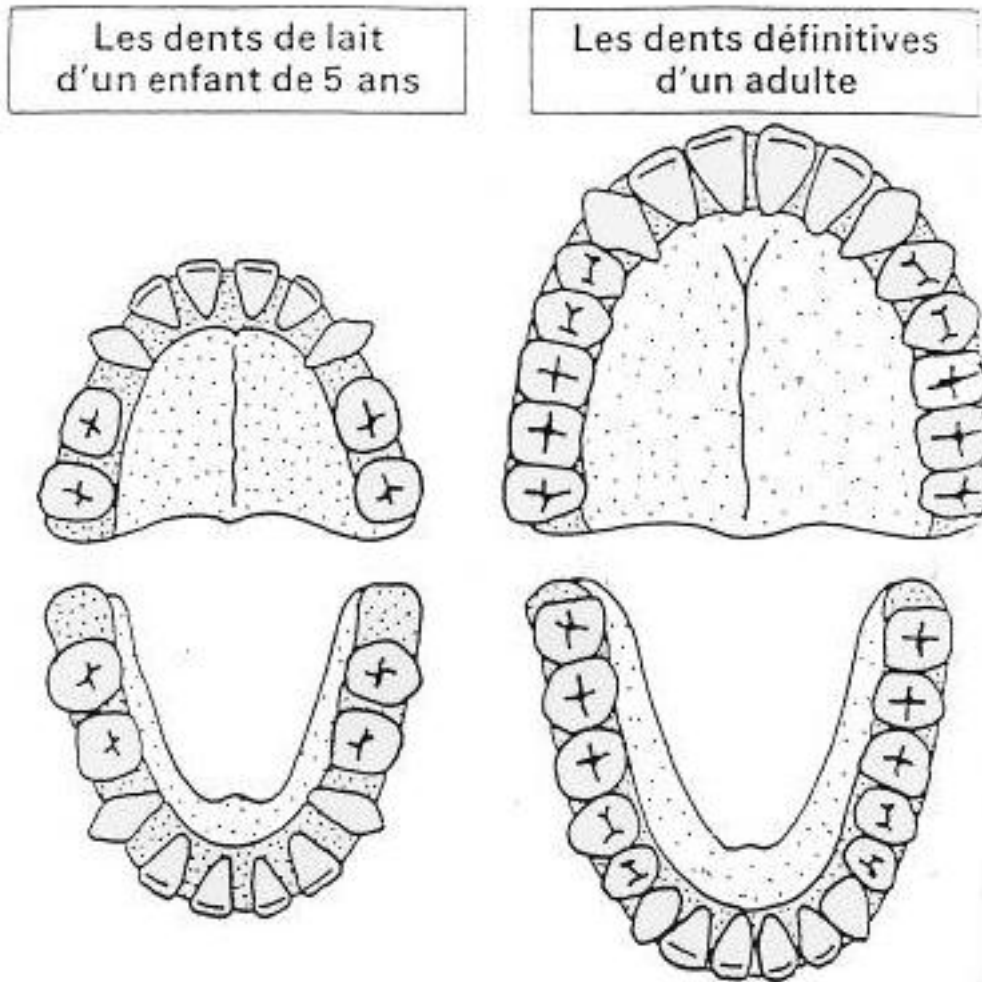


2. Colorie en bleu les dents de lait, en rouge les dents définitives et en jaune les futures dents.



Mes dents

1. En observant attentivement ces deux dessins, recherche les différences.



L'ordre d'apparition des dents

Les enfants ont _____ dents _____ aussi appelées,
les dents _____. Elles poussent entre _____ mois
et _____ ans.


Elles tombent entre _____ et _____ ans.

Les adultes ont 28 dents _____ et parfois 4 dents
_____ en plus.



Mes dents

1. A l'aide du miroir, observe l'intérieur de ta bouche et dessine ce que tu vois.



En haut, je vois le _____.



Au fond, je vois la _____.



En bas, je vois la _____.

Les dents sont fixées sur les os des _____.



La mâchoire (du haut) _____ est fixe, elle fait partie du _____.



La mâchoire (du bas) _____ est mobile. Elle s'ouvre et se ferme. C'est ce qui permet aux dents de jouer leur rôle.

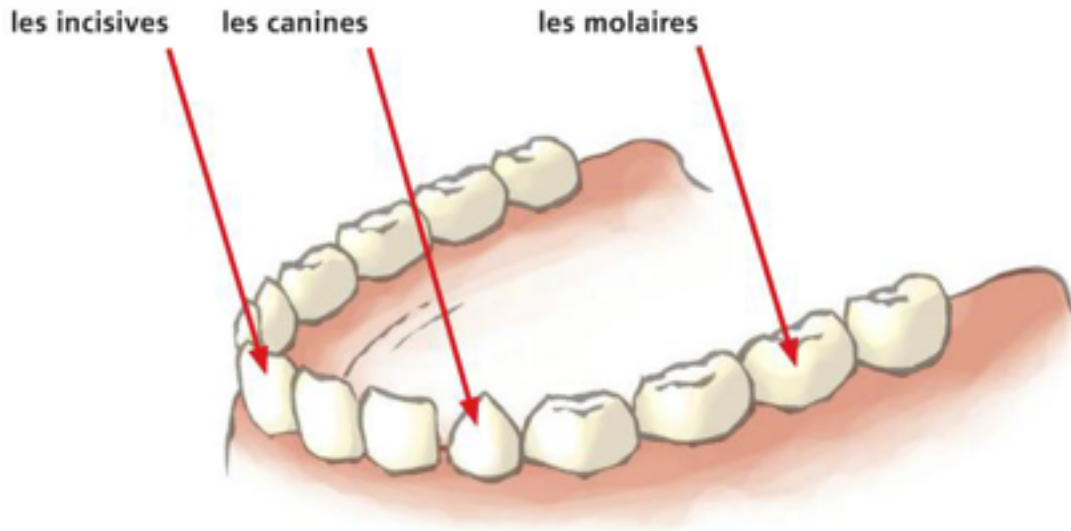
2. Observe maintenant la forme de tes dents.

Tes dents sont-elles toutes pareilles ? Ont-elles toutes la même forme ?



Mes dents

Nous avons trois sortes de dents, qui ont chacune un rôle différent :



Les _____, avec leur bord tranchant, servent à
_____ les aliments.



Les _____, _____, servent à
_____ les aliments.



Les _____, plates et larges, servent à
_____ les aliments.

Je croque dans un fruit avec mes _____.

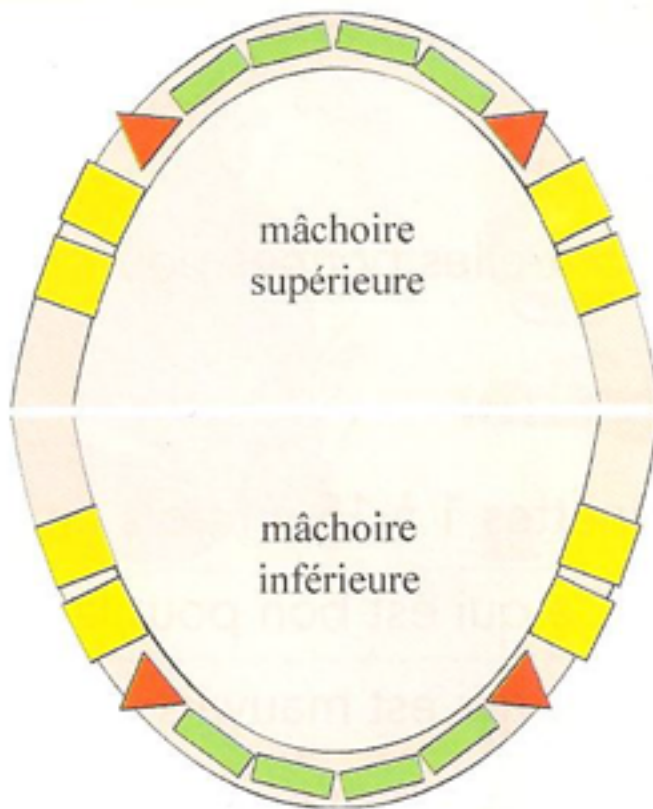
J'écrase un morceau de pain avec mes _____.


Je déchire un morceau de viande avec mes _____.





Mes dents

Voici une bouche d'enfant représentée schématiquement.





les incisives 



les canines 

les molaires 

Relie.

Dent coupante   ●

Dent pointue   ●

Dent broyeuse   ●

canines.
● Elles sont sur le côté de ma bouche.

molaires
● Elles sont à l'arrière

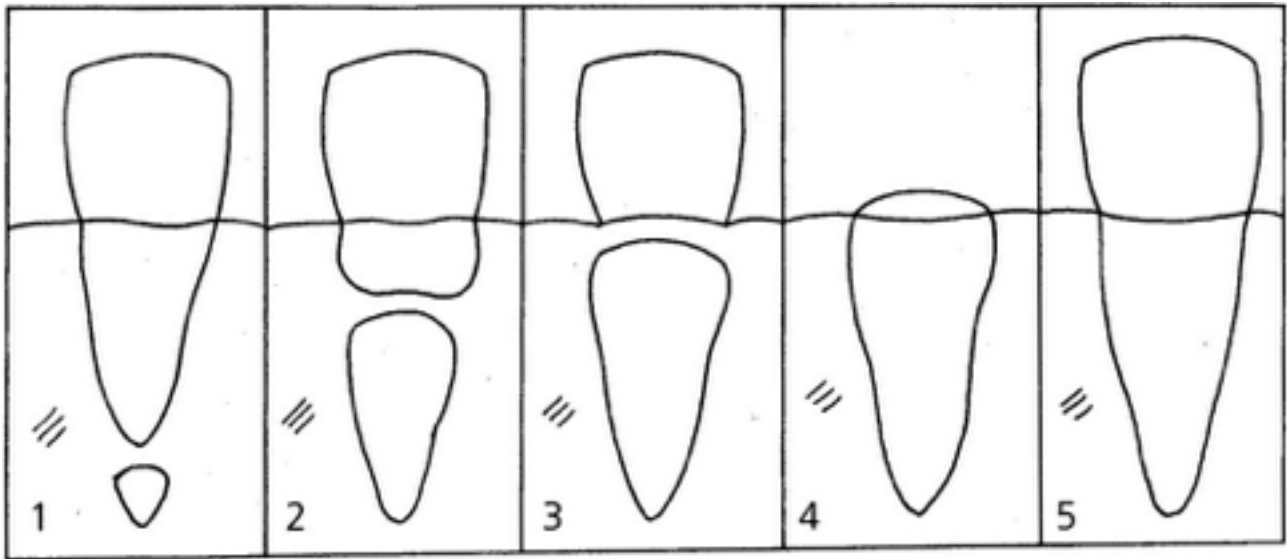
incisives.
● Elles sont à l'avant de ma bouche.



Mes dents

Sous une dent de lait, il y a toujours la future dent _____.

Sous une dent définitive, il n'y a _____ car cette dent ne sera plus remplacée.



1. La dent _____ est déjà là sous la dent de lait.
2. Elle grandit et prend de plus en plus de place.
3. Elle pousse la dent _____ qui va _____.
4. La dent définitive apparaît sur la _____.
5. Elle a pris sa place et va jouer son rôle.

Sur chaque dent, colorie en rose la partie cachée dans la gencive et en jaune la partie visible.



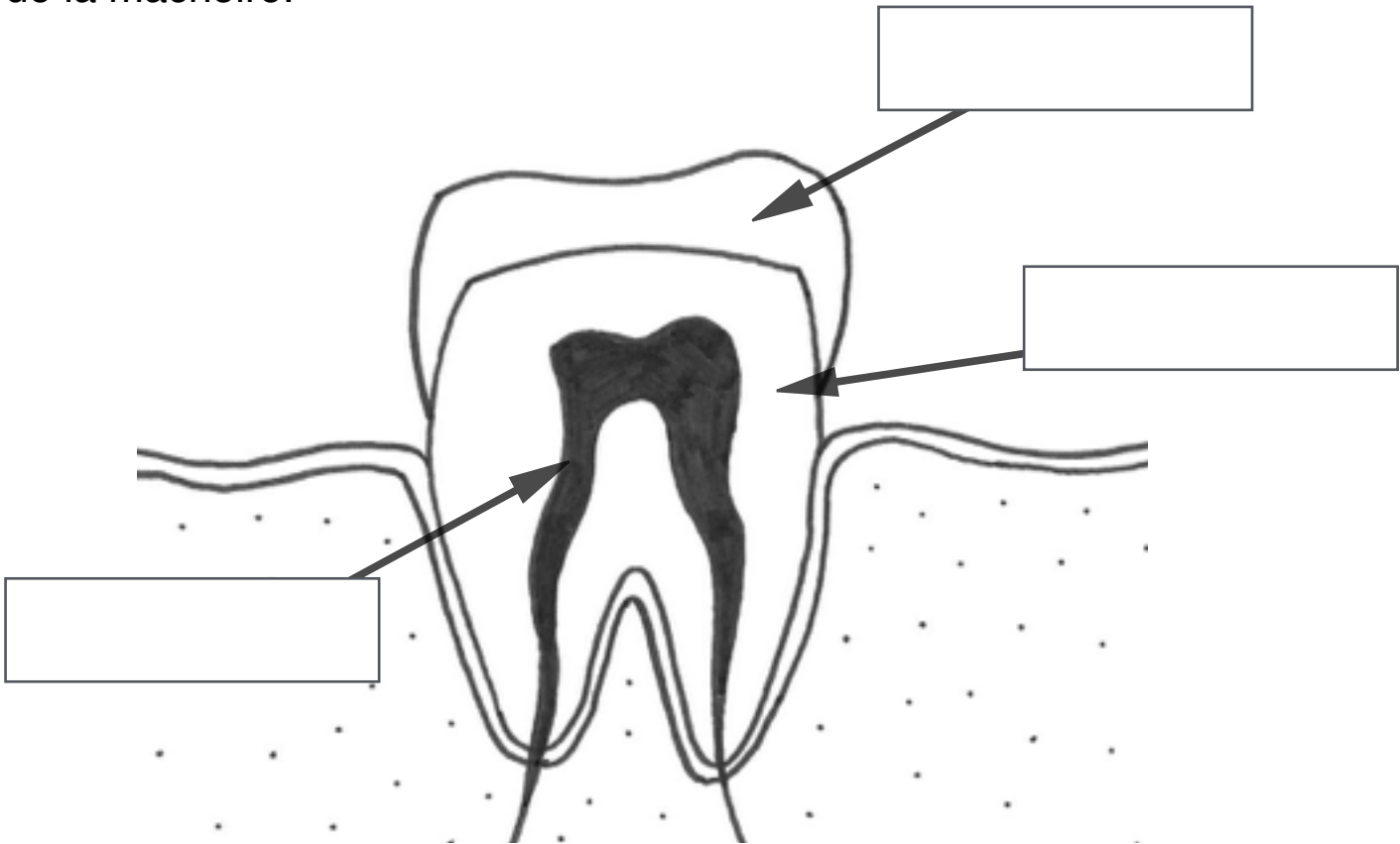


Mes dents

Les dents sont plus _____ que ce que l'on voit.

La partie visible de la dent s'appelle la _____.

Sous la gencive se trouve la _____ qui est attachée à l'os de la mâchoire.



La couronne est faite d'_____ dur et transparent qui protège la dent. Sous l'émail se trouve la dentine qui est aussi dure que de l'os.

Au centre de la dent se trouve la pulpe dentaire, constituée de nerfs et de vaisseaux sanguins. Ce sont les nerfs qui nous font ressentir la _____, le _____ et la _____.



Mes dents

Une carie est un petit _____ dans la dent, dû à l'attaque de microbes. Si ce trou atteint la partie sensible de la dent (le _____), tu ressentiras une douleur.

Les caries abîment les dents et sont provoquées par les aliments, dont le _____, qui « grignote » les dents.

Pour éviter les caries, il faut prendre de bonnes habitudes :



Ne pas manger trop _____, surtout lorsque tu as un petit creux : prends plutôt un fruit ou un yaourt.



A table, bois de _____ plutôt que des jus de fruits ou des sodas, très sucrés eux aussi.

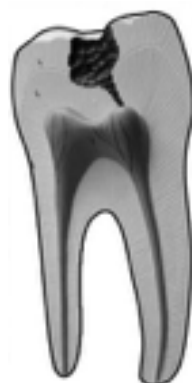


Tu dois te brosser soigneusement les dents au minimum _____ et _____ pendant _____ minutes.



Tu dois aller chez le dentiste au moins _____, car même si tu n'as pas mal aux dents, tu peux avoir des petites caries.

Voici la coupe d'une dent cariée. Entoure en rouge l'endroit où la carie touche le nerf.





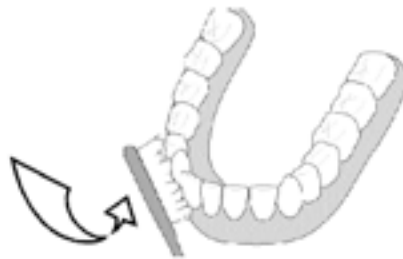
Mes dents

Nos dents sont _____. C'est pourquoi, nous devons nous en _____ et les soigner lorsqu'elles sont _____.

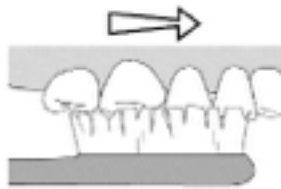
Il est nécessaire de se brosser les dents avec soin pour enlever les résidus de _____ et ainsi éviter les _____.



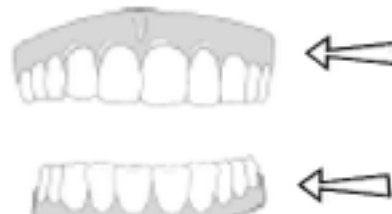
Je tiens ma brosse à dents penchée.



Je brosse de la gencive vers la dent en faisant un mouvement qui tourne.



Je fais le tour de toutes les dents sans oublier le dessus.



Je brosse séparément les dents du bas et les dents du haut.



Mes dents





Mes dents



date : _____

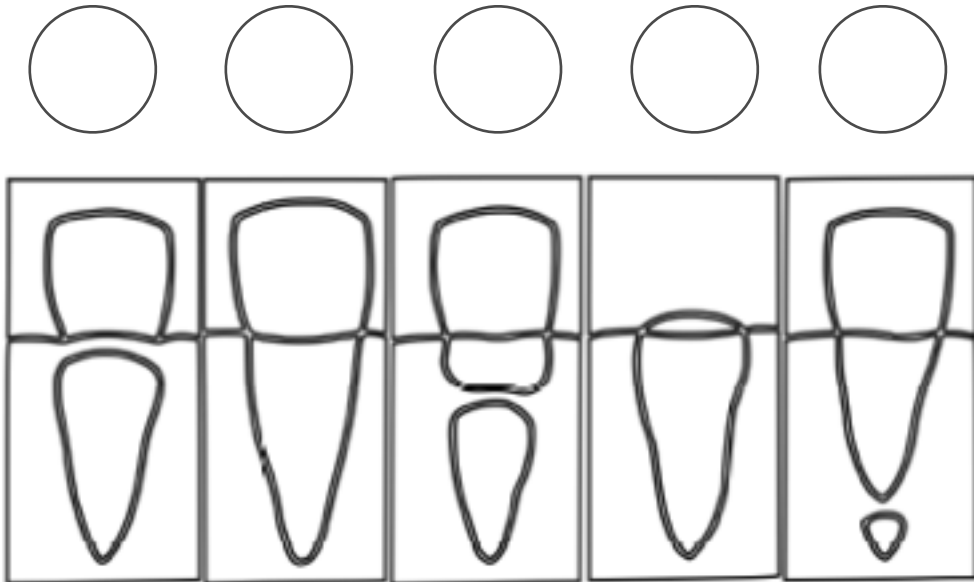
prénom : _____

Evaluation CE :



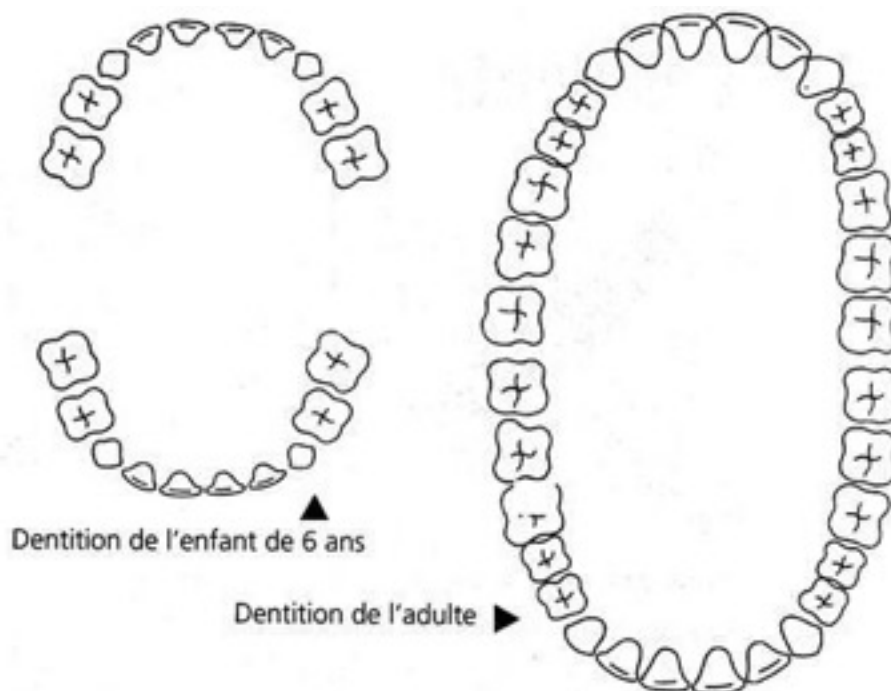
Mes dents

1. Numérote ces images selon l'ordre d'apparition des dents.



/5pts

2. Colorie en rouge les dents supplémentaires de l'adulte.



/4pts

3. Ecris le nom de chaque dent et complète la phrase.

canines - molaires - incisives

couper - déchirer - broyer



Les _____, plates et larges, servent à
_____ les aliments.



Les _____, _____, servent à
_____ les aliments.



Les _____, avec leur bord tranchant, servent à
_____ les aliments.

/6 pts

4. Relie par des flèches les mots suivants :

la couronne

la gencive

la pulpe

la dentine



/4 pts

5. Réponds ou coche la/les bonnes réponses.

a) Dans la bouche d'un adulte, combien y a-t-il...

... d'incisives ? _____

... de canines ? _____

... de molaires ? _____

b) Les dents de sagesse sont...

...des dents de lait.

...des dents pour les gens sage.

...des molaires supplémentaires.

c) Les caries sont provoquées...

... par les déchets de nourriture.

...par un mauvais dentifrice.

...par un manque d'hygiène dentaire.

d) Les dents sont recouvertes...

... d'os.

...d'émail.

....d'ivoire.

/8 pts

date : _____

prénom : _____

Test significatif CE : Mes dents

MSN 17 — Construire son schéma corporel pour tenir compte de ses besoins...

...en représentant graphiquement son corps

...en identifiant les principales caractéristiques de certaines parties du corps

Total: _____ / 27 points

NA	PA	A	AA	LA
1 - 8	9 - 17	18 - 21	22 - 24	25 - 27

Signature: _____

date : _____

prénom : _____

Test significatif CE : Mes dents

MSN 17 — Construire son schéma corporel pour tenir compte de ses besoins...

...en représentant graphiquement son corps

...en identifiant les principales caractéristiques de certaines parties du corps

Total: _____ / 27 points

NA	PA	A	AA	LA
1 - 8	9 - 17	18 - 21	22 - 24	25 - 27

Signature: _____

